

# Prezident Maktablariga Kirish Imtihoni Uchun Sinov Testi

## 8-9 Sinflar uchun

Testlar O'zbek va Ingliz tillarida berilgan

- Masala Yechish
- Tanqidiy Fikrlash
- Ingliz tili
- Yechimlari

Test tuzuvchi: Yusup Mirjonov

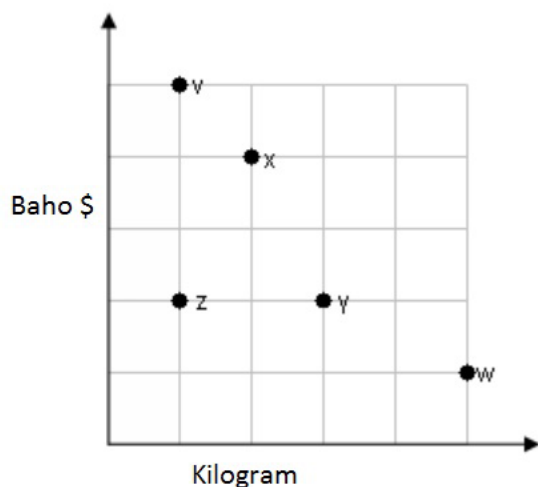
Urganch 2019



# Test C: Masala yechish

1. Grafik turli xil do'konlardan sotib olingan shakarining bahosini va og'irligini ko'rsatadi.

Qaysi do'konlarda shakarining bahosi bir hil.



A Do'kon Z va X

B Do'kon Z va V

C Do'kon Y va Z

D Do'kon V va W

E Do'kon X va Y

2. Quyidagi ko'paytmalardan eng kattasini toping?

A  $6.00 \times 0.20$

B  $6.01 \times 0.19$

C  $6.02 \times 0.18$

D  $6.03 \times 0.17$

E  $6.04 \times 0.16$

3. Agar ikki raqamli sonning raqamlari almashtirilsa, natijadagi son dastlabki sondan 27 ga farq qiladi. Shu ikki honali son raqamlari

ayirmasini toping.

A 3    B 4    C 5    D 6    E 7

4. Bog'bon ma'lumbir gul urug'ini 5-kilolik haltasini \$13.85 dab, 10 kilolik haltasini \$20.43 dan, va 25-kilolik haltasini \$32.25 dan sotyabdi. Agar hairdor kamida 65 kilo va ko'pi bilan 80 kilo gul urug'i sotib olmoqchi bo'lsa, u eng kam qancha pul to'lashi mumkinligini toping.

A \$94.03    B \$96.75    C \$98.78    D \$102.07    E \$105.3

5. Agar biron bir musbat son  $x$  4 ga bo'linsa va musbat son  $y$  6 ga bo'linsa,  $xy$  quyidagilardan qaysi birlariga bo'linadi?

I. 8    II. 12    III. 18

A faqat II    B faqat I va II    C faqat I va III    D faqat II va III    E I, II va III

6. Quyidagini hisoblang.

$$\sin x * \frac{1}{n}$$

A 0    B 1    C  $\frac{1}{\pi}$     D six    E  $\arccos \frac{1}{n}$

7. Quyidagi shaklida qaysi 3 belgini qo'yish kerak.

&&●&&&○&&&&●&&&○&&●&&&○&&&&  
●&&&○&&●&&&○&&&&●&&&○  
&&&○&&&&●&&&○

- A &●&
- B ●&&
- C &&&
- D &&●
- E &○&

8. Komputer o'yini da uchta afsonaviy mahluqni tutish talab qilinadi. Bular Arps, Orps va Urps.

1.Arpsda 6 ta oyoq, 3 ta shox va bitta dumb or.

2.Orpsda 4 ta oyoq, 2 ta shox va dum yo'q.

3.Urpsda 3 ta oyoq, bitta dum va shox yo'q.

Ohirgi safar Billy bu o'yinni o'ynab 45 ta mahluq tutdi va ularning jami 222 ta oyog'i, 99 shoxi va 33 ta dumi bor edi.

Savol: Billy nechta Urps tutgan?

- A 8 B 12 C 15 D 20 E 25

9. Gugurt qutisoladigan katta idishning o'lchovlari 12 cm 5 cm 3cm. Har bir gugurt qutining o'lchovlari 5 cm, 2mm , 2 mm. Eng ko'pi bilan shu katta qutiga qancha gugurt sig'adi?

A 900    B 750    C 1200    D 1000    E 600

10. Guruhda 68 talaba bor. Har bir talaba eng kamida Tarix, Matematika va Ingliz tili darslaridan bittasiga qatnashishi shart. 25 talaba tarix darsiga, 25 tasi matematika va 35 tasi ingliz tili darslariga qatnashadi. Faqatgina 3 ta talaba hamma darslarga qatnashadigan bo'lsa, nechata talaba 2 ta fandan darslarga qatnashadi?

A. 13    B. 10    C. 9    D. 8    E. 7

11. 1, 2, 3, 4 va 5 sonlari berilgan, shu sonlardan foydalanib 3 raqamli kod tuzish kerak. Agar raqamlarni takroriy ishlatishga ruhsat bo'lsa, nechta kod tuzish mumkin?

A 120    B 100    C 125    D 150    E 90

12. 20 dan kichik bo'lgan barcha tub sonlar ko'paytmasi quyidagilardan qaysi biriga yaqin son?

A  $10^9$     B  $10^8$     C  $10^7$     D  $10^6$     E  $10^5$

13. \* belgisi ikkita shahar orasidagi masofani ko'rsatuvchi belgi hisoblanadi. Agar manashu jadval 30 shaharni ko'rsatadigan qilib tuzib chiqiladigan bo'lsa, nechta \* belgisi ishlatiladi?

	City A	City B	City C	City D	City E
City A		*	*	*	*
City B			*	*	*
City C				*	*
City D					*
City E					

A 60

B 435

C 450

D 465

E 900

14. Bir paket yukni pochtdan yuborish uchun birinchi kilo uchun  $x$  so'm, ikkinchi kilodan boshlab  $y$  so'm hizmat haqi olinadi ( $x > y$ ). Agar ikkita paketdagi yuk mos ravishda 3 va 5 kiloni tashkil qilib, alohida yoki qo'shim yuborish tanlovi bo'lsa, qanday qilib yuborish arzonroq bo'ladi va qancha pul tejaladi.

A qo'shib yuborish,  $x - y$  so'm tejaladi

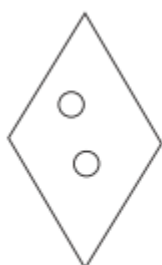
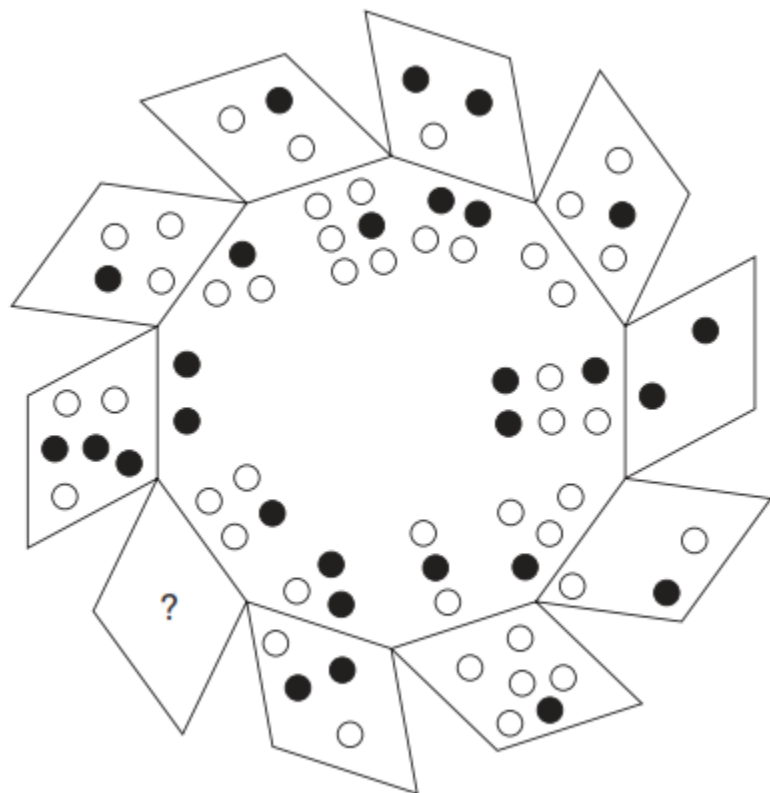
B qo'shib yuborish,  $y - x$  so'm tejaladi

C qo'shib yuborish,  $x$  so'm tejaladi

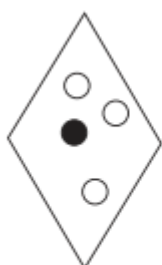
D Alohida yuborish,  $x - y$  so'm tejaladi

E qo'shib yuborish,  $y$  so'm tejaladi

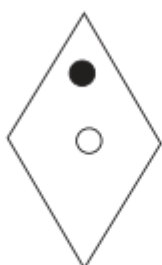
15. So'roq belgisi o'rniga qaysi bo'lak qo'yiladi?



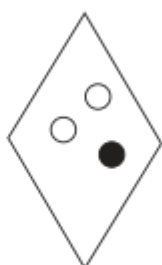
A



B



C



D



E

## Test C: Tanqidiy fikrlash

1. Falakshunost: Ko'pchilik yulduzlar minglagan sondan tashkil topgan yulduzlar guruhi sifatida paydo bo'ladi. Guruhdagi har bir yulduz bitta asosiy otalik gazidan paydo bo'ladi. Har bir yulduzning noyob kimyoviy tuzulishi bo'ladi. Shuning uchun ham agarda ikkita bir hil kimyoviy tuzulishga ega yulduz topilsa, aniqki ular bir hil otalik gazidan paydo bo'lgan bo'ladi.

Quyidagi gaplardan qaysi biri yuqoridagi falakshunostning farazini qo'llab quvvatlaydi?

**A** Ba'zi yulduzlar guruhida, hamma yulduzlar ham bir hil otalik gazidan paydo bolmaydi.

**B** Bir hil tuzulishga ega gaz bulutlari bir birlaridan uzoqada bo'ladi.

**C** Yulduz paydo bo'lganda, u kimyoviy tuzulishni otalik gaz bulitidan meros oladi.

**D** Koinotning turli joylaridagi ko'pgina yulduzlar ancha bir biriga o'hshash bo'ladi.

**E** Falakshunoslar kamida ba'zida malum bir yulduzning qaysi otalik yulduzdan kelib chiqqanini ayta oladilar.

2. Lobar bo'g'chasiga karam ekdi. Bir kun ertalab qarasa, karam yaproqlari kichrayib qolibdi. Yaproqning chetlari ham shuningdek yulingan ekan. Lobar buni qo'shnisini quyoni qilgan degan hulosaga keldi, chunki qo'shnisi quyoni bir kun oldin qafasdan qochib ketganini aytgandi. Ammo, qo'shnisi bu iddaoni rad qildi va aytdiki uning quyoni karam yemaydi, u faqat mahsus quyonlar uchun bo'lgan ovqatni yeyishga o'rgatilgan.

Hikoyadan kelib chiqadigan bo'lsak, quyidagilarni qaysi bir haqiqat?

**A** Ba'zi hayvon Lobarning karamini yegan.

**B** Lobarning karami qo'shnisining quyoni qochmasidan oldin zararlangan.

**C** Lobarning karamiga qo'shnisining quyoni kochgan kun bir nimalar bo'lgan.

**D** Karam barglari yana qayta tikalnadi agar quyonlar qafasda saqlansa.

3. Quyidagi qaysi ma'lumot, agar rost bo'lsa, karamni quyon yeganiga YAQQOL dalil bo'laoladi?

**A** Bir qo'shnisini panjara bilan o'ralgan bog'ida juda zo'r karamlar bor.

**B** Lobarning jiyanida ham karamni ham quyonlar ovaqatini yeyishni hush ko'radigan quyon bor.

**C** Lobarning qo'shnisi avvallari quyoni haqida yolg'on so'zlagandi.

**D** Lobar quyon yana ko'yib yuborilganda yulingan karam barglarini topdi.

4. Bir yili yozda, pastqam yerlardagi sarimsoq dalalarini suv bosdi. Bu yerlarda chivinlar katta miqdorda yashar edi. Chivin o'z tuxumini

suvda qo'yadi lekin toshqin bo'lishiga qaramay, sarimsoq dalalarida chivinlar topilmadi. Diallyl sulfat, sarimsoq tarkibidagi modda, bir qancha hasharotlarni jumladan chivinlarni yo'q qilgan deb o'ylandi.

Quyidagi fikrlarning qaysi biri yuqoridagi hulosani qo'llab quvvatlaydi?

**A** Diallyl sulfat shuningdek piyozda ham bo'ladi lekin kam miqdorda.

**B** Chivinlar soni toshqin bo'lgan yilda boshqa yildagidan kam bo'ldi.

**C** Yoz ohiriga borib butun sarimsoq hosili suvda yashaydigan zamburug' tufayli barbod bo'ldi.

**D** Diallyl sulfat o'ldirmaydigan boshqa hasharot turlari butun yoz bo'ylab toshqin bo'lgan dalalarda mavjud bo'ldi.

**E** Chivinlar sarimsoqdan boshqa o'simliklardagi zaharli moddalarga chidamsiz bo'ladi, masalan marigolds.

5. 'Gul bargi – Gul' ushu so'zlar aloqasiddan kelib chiqib, o'xshash aloqali so'zlar juftligini toping.

**A** tuz – qalampir

**B** g'ildirak- velosapet

**C** Krasovka – tuvli

**D** kuchuk – it

6. Ohirgi ikki yilda halokatqa qarshi qurilmaga ega samolyotlar soni ko'paydi. Manashu davrda, samolyotning muhim ma'lumotlari, tezligi va balandligi, to'satdan dispecher ekranidan yo'qolib qoladigan bo'ldi.

Yangi qurilma radar bilan bir chastatada ishlagani uchun bu hatolikka asosiy aybdor deb o'ylandi.

Quyidagilardan qaysi biri,agar haqiqat bo'lsa,hulosani jiddiy hato ekanligini isbotlay oladi?

**A** Halokatga qarshi yangi qurilma allaqachon bir qancha halokat oldini oldi.

**B** Ma'lumotlar yo'qolishi faqatgina yangi qurilma ishga tushirganidan keyingina sodir bolib boshladi.

**C** Yangi qurilmani boshqa chastatada ishlatish kelishib olindi.

**D** Ma'lumotlarni yo'qolishi yangi qurilma birinchi marta ishlatilishidan 3 oy oldan sodir bo'lishni boshlagan.

**E** Ma'lumotlarni yo'qolishi faqatgina katta aeropoetlarda sodir bo'ldi.  
g'ildirak- velosapet

7. Yangi qanday ma'lumot topilishi hatolik aynan yangi qurilmada ekanini isbotlaydi.

**A** Bu ko'ngilsiz holat hamma uchuvchilarda har hil kuzatildi.

**B** Bu qurilma ma'lumotlar bulan ishlatilmaydi.

**C** Yangi qurilma ma'lumotlar almashinuvida ba'zida haddan tashqari bandlik yuzaga keldiradi.

**D** Ma'lumotlar faqat yerda harakatlanishda yo'qlib qoladi.

**8.** Alkagol istemol qiluvchi ota-onaning farzandi ham alkagol ichuvchi bo'ladi, aksincha buni istemol qilmaydigan ota-onaning farzadi alkagolga moyil bo'lmaydi. Bolaning alkagolga moyilligi qaysi bir ota-onaga ichishiga ham bog'liq, ham otasi ham onasi ichuvchilarada moyillik yuqori bo'ladi. Bu alkagolga moyillik hatto go'daklikda ota-onasidan ajratilgan bolalarda ham kuzatiladi.

Yuqoridagi gapdan qanday hulosani chiqarish mumkin?

- A** Ichmaydigan odamning farzandi ichuvchi bo'lmaydi.
- B** Otalar farzadlar ichuvchiliga onalardan ko'proq ta'sir ko'rsatadilar.
- C** Ichishga moyillik kamida qisman bo'lsa ham gendan genga o'tadi.
- D** Muhit alkagalizmga deyarli ta'sir qilmaydi.
- E** Irqiy bo'lgani uchun, alkagalizmni davolash o'ta qiyin.

**9.** Ko'chilik lotareyani zararsiz ko'ngil ochish va pul yutib olish imkoniyati deb bilsa ham, lotareya qimorning bir ko'rinishidir. Shuning uchun ham mansabdor shaxslar lotareya o'ynamasligi kerak.

Ushbu fikrga kelishda qaysi farazga asoslanilgan?

- A** Lotareya o'ynaydigan odamlar mashinada halokatga uchrashdan ko'ra kamroq zarar ko'rishadi.
- B** Ba'zi mansabdorlar qimordan ko'ra jiddiyroq jinoyatlarni qilishadi.
- C** Mansabdorlar qimor o'ynamasligi kerak.
- D** Ko'pchilik mansabdorlar mansab vakolatini osongina suistemol qilishadi.
- E** Ko'pchilik lotareyada yutganlar kutgandek hursand berishmaydi.

10. Agar **JAILAPPAS** so'zi **AIJAPLASP** sifatida kodlansa, **ECONOMICS** so'zini kodlab bering.

A COEMONCSI    B COEOMNCSI    C OECMONSCI    D OECOMNCIS

11. 2000 yilgi saylovda, 18 dan 25 yoshlar oralig'idagi insonlarning faqat 28% igina ovoz berdilar. 2004 yildagi saylovlarda bo'lsa, saylovga nomzodini qo'yganlar yoshlarni ko'proq jalb qilishdi, buning natijasida bu ko'rsatkich 39% ga ko'tarildi.

Quyidagilardan qaysi biri yuqoridagi fikrni asossiz ekanligini taminlaydi.

A Saylovdagi nomzodi qo'yilganlar 55, 72 va 64 yoshda.

B 35 va 44 yoshdagi saylovchilar 42% bo'ldi 2004 yilda.

C Negralar o'rtasidagi ovoz berish kamaygan 2000 yildan 2004 gacha.

D Saylovga ovoz berish 2000 yil ko'proq davom qilidi.

E 2004 yilda referendum bo'ldi, bunda spirtli ichimlik sotib olish yoshi 18 ga tushirilgandi.

12. Urush bo'lib turgan **Davlat X** da zavod ochimaslikni maslahat bermaslik kerak, 10 yil oldin biz **Davlat Y** da revolutsiya o'rtasida zavod ochganmiz va u juda katta daromad bilan bilan ishlab kelmoqda.

Yuqoridagi gapdan muallifi bizni qanday hulosaga kelishimizni hohlaydi?

- A Urush muallifni ayrim biznesiga faydali.
- B Davlar X siyosiy jihatdan Davlat Y ga nisbatadan mustahkamroq.
- C Davlat X da zavod qurishni tanqidchilari haqida asossiz fikrlar mavjud.
- D Davlat X dagi zavod urush bo'lishga qaramay katta foyda keltiradi.
- E Davlat X dagi zavod Davlat Y ga nisbatan ko'proq daromad keltiradi.

**13.** Maktabda yaxshi o'qishga ko'zi yetmagan talabalar maktabni tashlashadi va ishlashni boshlashadi. Lekin o'tgan yilda Xonqa shahrida maktabni tashlab ketuvchilar keskin kamaydi. Bu o'zgarish ikki yil oldin boshlangan tushuntirish ishlarini samarasi deb qaralmoqada.

**Quyidagilardan qaysi biri bu fikrni hatoligini ko'rsatadi.**

- A Shaharda inqiroz kuzatildi va bu ishsizlikni keskin oshirdi.
- B Maktabni tashlaydigan talabalar kayfiyari avvalari ham juda past bo'lgan.
- C O'tgan yildagidek, maktabni bitiruvchilari tashlab ketganlardan ko'p edi.
- D Maktablar bitiruvchilarga ish topishda ko'maklashadigan markaz ochishdi.

**14.** Quyidagi fikrlardan qaysi biri hulosani asoslashga yordam beradi?

- A Shaharda ishlar soni keskin kamaymadi.
- B Boshqa tumandagi maktabda bu loyiha joriy qilinmadi va maktabni tashlashda hech qanday farq bolamadi.

C Ota –onalarni o'quvcilar bilan ishlashi ko'paydi.

D Maktab byujeti oshirildi.

15. So'roq o'rniga qaysi harflar keladi?

CD, GH, KL, OP, ST, \_\_\_\_?\_\_\_\_

A RS

B QR

C GH

D W

## Test C: English

1. Which of the sentences is a command?

A) Before you go out, ask your mother for shopping list.

B) I want to clean out the playhouse this afternoon.

C) Here is a list of jobs you must finish before lunchtime.

D) After you wash the dog, you will need to dry it with a towel.

2. This blue door was \_\_\_\_\_ painted green

A) lastly

B) before

C) originally

D) presently

3. ....Philippines were named after ... Philip II of ... Spain.

A) the/the/-

B) the/-/-

C) -/the/-

D) -/the/-

4. "Knock it off" means the same as \_\_\_\_\_.

A) buy it

B) yes, please

C) stop it

D) continue, please

5. I've been trying to phone to Charles all evening, but there must be something \_\_\_\_\_ with the line.

A) error

B) true

C) wrong

D) false

6. There is real concern that food supplies will not be \_\_\_\_\_ to feed the increasing world population.

A) sufficient

B) satisfactory

C) equal

D) measured

7. The child was told to \_\_\_\_\_ for being rude to his uncle.

- A) excuse    B) apologize    C) confess    D) pardon

8. If the World Population \_\_\_\_\_ continues, it will be impossible to feed everybody.

- A) outbreak    B) blast    C) explosion    D) contraction

9. I wish to see the manager to \_\_\_\_\_ about the terrible food in this restaurant.

- A) inquire    B) complain    C) criticize    D) revolt

10. "We have mice in the kitchen."

"If you \_\_\_\_\_ a cat, the mice \_\_\_\_\_ soon \_\_\_\_\_."

A) had / would / disappear

B) have / will be / disappear

C) are / will / disappear

D) had / will / disappear

11. The height of Mt Vesuvius is about 1200 m and that of Mt Blanc is 4800 m. Mt Blanc is the \_\_\_\_\_ of the two mountains. Its height is about \_\_\_\_\_ of Mt Vesuvius

A) higher / one fourth that

B) highest / one fourth

C) highest / four times that

D) higher / four times that

**12.** It was raining very hard. A lot of people were standing at the bus-stop and were sorry they had not taken their umbrellas with them. But one man among them was cheerful and pleased. He always repeated "the harder it rains the better I like it." Asked why he was happy with rain he answered ...

- A) The fist blow is half the battle.
- B) Actions speak louder than words.
- C) An idle brain is the devil's workshop.
- D) One man's meat is another man's poison.

**13.** A man mustn't think that his task is too difficult before he begins doing it. This expression means that .....

- A) Everything comes to him who waits.
- B) No living man all things can.
- C) Live not to eat but eat to live.
- D) Don't cross the bridge before you come to it.

The Falklands are a group of small islands in the South Atlantic close to Argentina, with a population of 1,200 British citizens. They have been British territory since 1892. Disputes about who owns the islands go back to the eighteenth century. Argentina has long claimed that these islands, which they call the Malvinas, belong to them. They occupied the islands in April 1982 and the Falklands War lasted until

July 1982 when British forces won them back. The Falklands War had an enormous impact on Britain and is still controversial. Some people see it as a restoration of Britain's old imperial power.

14. One may conclude from the passage that, even today, Britain's hold over the Falkland Islands \_\_\_\_\_.

- A) is regarded as politically and economically unnecessary by everyone in Britain
- B) could, in all likelihood, lead to another war between Britain and other powers
- C) causes more problems than benefits to the British public
- D) is felt by some people to be a continuation of the British imperial rules

15. According to the passage, the Falklands War \_\_\_\_\_.

- A) was being fought, on and off, between 1892 and 1982
- B) was largely ignored by the British public
- C) showed how right Argentina was in claiming the islands
- D) broke out after the islands were invaded by Argentina